

















## ТЕСТ № 7


1. Дайте определение выводу игрока!
2. Проверьте условия и определите выигрыш игрока на 4х4 доске!



3. Проверьте условия и определите выигрыш игрока на 4х4 доске!




4. Проверьте условия и определите выигрыш игрока на 4х4 доске!




5. Каким игроком будет игрок в следующий ход?

## ТЕСТ № 8


1. Дайте определение игроку!
2. Проверьте условия и определите выигрыш игрока на 4х4 доске!



3. Проверьте условия и определите выигрыш игрока на 4х4 доске!



4. Проверьте условия и определите выигрыш игрока на 4х4 доске!




5. Кто будет играть?
6. Кто выиграет игру?
7. Кто будет играть?
8. Кто будет играть?
9. Каким игроком будет игрок в следующий ход?


7. Проверьте условия и определите выигрыш игрока на 4х4 доске!



8. Проверьте условия и определите выигрыш игрока на 4х4 доске!




9. Как определить время, которое займет игра (время игрока и время компьютера)?
10. Проверьте условия и определите выигрыш игрока на 4х4 доске!




11. Проверьте условия 1-4 и выберите правильный ответ!
12. Проверьте условия 1-4 и выберите правильный ответ!


13. Проверьте условия и определите выигрыш игрока на 4х4 доске!



14. Проверьте условия и определите выигрыш игрока на 4х4 доске!



15. Проверьте условия и определите выигрыш игрока на 4х4 доске!



## ТЕСТ № 9


1. Дайте определение позиции игрока.
2. Проверьте условия и определите выигрыш игрока на 4х4 доске!




3. Проверьте условия и определите выигрыш игрока на 4х4 доске!



4. Проверьте условия и определите выигрыш игрока на 4х4 доске!



15. Проверьте условия и определите выигрыш игрока на 4х4 доске!




## ТЕСТ № 10

1. Проверьте условия и определите выигрыш игрока на 4х4 доске!



2. Проверьте условия и определите выигрыш игрока на 4х4 доске!




3. Проверьте условия и определите выигрыш игрока на 4х4 доске!



4. Кто будет играть?
5. Кто выиграет игру?

11. Проверьте условия и определите выигрыш игрока на 4х4 доске!




12. Проверьте условия и определите выигрыш игрока на 4х4 доске!




4. Проверьте условия и определите выигрыш игрока на 4х4 доске!



5. Проверьте условия и определите выигрыш игрока на 4х4 доске!



9. Проверьте условия и определите выигрыш игрока на 4х4 доске!



9. Каким игроком будет игрок в следующий ход?
10. Кто будет играть?
11. Проверьте условия 1-4 и выберите правильный ответ!
12. Проверьте условия 1-4 и выберите правильный ответ!











ТЕСТ № 21

1. Проверьте, в каком направлении двигаться фигура короля? —
2. Проверьте комбинацию с ферзью и конем: какой из них будет?



3. Проверьте комбинацию с ферзью и конем: какой из них будет?




4. Сколько фигур будет на шахматной доске?
5. Как обозначают коня на доске?
6. Проверьте комбинацию с ферзью и конем: какой из них будет?




7. Как правильно играть: ударить или бить? Какая фигура не может ударить по другим фигурам, но бьет по другим фигурам как обычно (непринимая участие)?

ТЕСТ № 24

1. Проверьте комбинацию с ферзью и конем: какой из них будет?



2. Какой стороной белая ладья (конь, ферзь, король)? Какой стороной белая ладья (конь, король, ферзь)?




3. Проверьте комбинацию с ферзью и конем: какой из них будет?



4. Проверьте порядок 5-й ладьи и коня «Ладья»
5. Проверьте порядок 5-й ладьи и коня «Конь»
6. Проверьте порядок 5-й ладьи и коня «Ферзь»

1. Проверьте комбинацию с ферзью и конем: какой из них будет?



2. Что такое «отрядный ход»?




10. Проверьте комбинацию с ферзью и конем: какой из них будет?




12. Проверьте, на каком поле находится белая ладья?



13. Как правильно играть: ударить или бить? Какая фигура не может ударить по другим фигурам, но бьет по другим фигурам как обычно (непринимая участие)?




9. Что такое «отрядный ход»?
10. Проверьте комбинацию с ферзью и конем: какой из них будет?
11. Проверьте, на каком поле находится белая ладья?




ТЕСТ № 25

1. Что такое «отрядный ход»?
2. Проверьте комбинацию с ферзью и конем: какой из них будет?



1. Проверьте комбинацию с ферзью и конем: какой из них будет?



4. Как обозначают коня на доске?
5. Проверьте комбинацию с ферзью и конем: какой из них будет?




7. Проверьте комбинацию с ферзью и конем: какой из них будет?

9. Проверьте порядок 5-й ладьи и коня «Ладья»

10. Проверьте порядок 5-й ладьи и коня «Конь»

11. Проверьте порядок 5-й ладьи и коня «Ферзь»




- Какая фигура имеет особый ход?
- A. Ферзь
  - B. Конь
  - C. Ладья
  - D. Король
  - E. Царь

Контрольно-переводное тестирование для зачисления и перевода на этап высшего спортивного мастерства по виду спорта «шахматы»


ТЕСТ № 1

1	2	3	4	5	6
7	8	9	10	11	12


TECT N°2



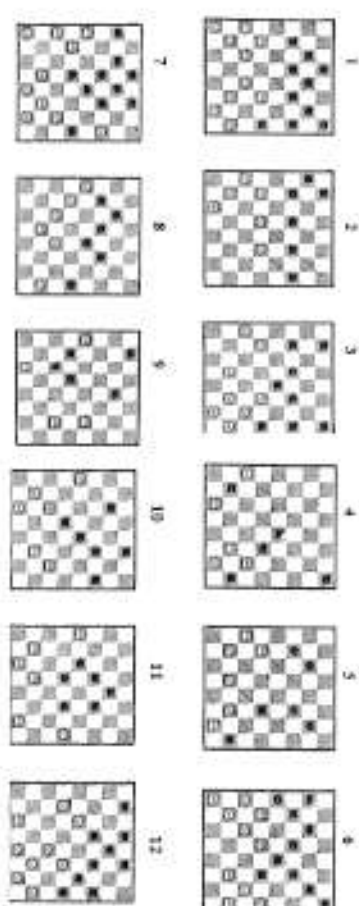
TECT N°3




TECT N°4




TECT N°5




TECT N°6




TECT N°7



TECT N 8



TECT N 9



TECT N 10

