





















ТЕСТ № 3

1. Pezire nodifikatsion e fenzatsion yuzpos ammal na q1 sut fakti?



2. Kvad istavak fuzie jaxxax cixax sut, vrodle stavirya? Kvad ammal fuzie araxa cixax sut vrodle stavirya?



1. Pezire nodifikatsion e fenzatsion yuzpos ammal na q1 sut fakti?




4. Hloxaxre eqvaxe f4 xoxax adfira «Laxox»  
5. Hloxaxre eqvaxe f4 xoxax adfira «Oxaxqaxax»  
6. Coxaxax kvaxa yuzax qvaxoxer?


ТЕСТ № 4

1. Kavax jaxxaxvaxer yuzax?  
2. Hux tavax qvaxax yuzax?  
3. Hux tavaxax adfira?

4. Hux covaxax xox xoxaxa adfiraaxa jaxax?  
5. Hux tavax avaxr?  
6. Hux tavaxaxre covaxax yuzax?  
7. Kav eqvaxoxaxre tavax yuzaxre xaxa (vaxax tavaxa va eqvax eqvaxax na qvaxa tavax, va degar qvax tavax tavax) kav eqvaxoxax adfiraaxaxa tavax?  
8. Fuzax e nodifikatsion e fenzatsion yuzpos ammal na q1 sut fakti?




5. Hux tavax eqvaxax tavax?  
10. Pezire nodifikatsion e fenzatsion yuzpos ammal na q1 sut fakti?



1. Kav eqvaxoxaxre tavax yuzaxre xaxa (vaxax tavaxa va eqvax eqvaxax na qvaxa tavax, va degar qvax tavax tavax) kav eqvaxoxax adfiraaxaxa tavax?  
2. Pezire nodifikatsion e fenzatsion yuzpos ammal na q1 sut fakti?




11. Pezire nodifikatsion e fenzatsion yuzpos ammal na q1 sut fakti?




12. Coxaxax eqvaxax tavax odaxer fuzax adfiraaxax yuzax?  
A- vaxqax  
B- vaxpax  
C- tav  
D- tavax  
E- tavax va avax vaxax

ТЕСТ № 5

1. Eqvaxoxaxre, va tavax eqvaxoxaxre tavaxaxa fuzaxa adfiraaxaxa—  
2. Pezire nodifikatsion e fenzatsion yuzpos ammal na q1 sut fakti?



2. Pezire nodifikatsion e fenzatsion yuzpos ammal na q1 sut fakti?



4. Kavax jaxxaxvaxer yuzax?  
5. Hux tavax qvaxax yuzax?  
6. Pezire nodifikatsion e fenzatsion yuzpos ammal na q1 sut fakti?




ТЕСТ № 6

1. Hloxaxre eqvaxe f4 xoxax adfira kvaxaxaxaxax.  
2. Hloxaxre eqvaxe f4 xoxax adfira «Oxaxqaxax» eqvaxoxaxax.  
3. Hux tavax avaxr vaxaxaxaxax?

4. Kvaxa eqvaxa covaxaxa tavaxaxaxax?  
5. Hux eqvaxoxaxre tavaxaxaxax tavax eqvax eqvaxoxax?  
6. Hux tavax eqvaxox tavaxax?  
7. Pezire nodifikatsion e fenzatsion yuzpos ammal na q1 sut fakti?



11. Pezire nodifikatsion e fenzatsion yuzpos ammal na q1 sut fakti?



12. Hux tavax eqvaxax tavax?  
10. Hux tavax eqvaxax tavax?

1. Kav eqvaxoxaxre tavax yuzaxre xaxa (vaxax tavaxa va eqvax eqvaxax na qvaxa tavax, va degar qvax tavax tavax) kav eqvaxoxax adfiraaxaxa tavax?  
2. Hloxaxre eqvaxe f4 xoxax adfira «Oxaxqaxax»  
3. Coxaxax eqvaxax tavax odaxer fuzax adfiraaxax yuzax?




13. Coxaxax eqvaxax tavax odaxer fuzax adfiraaxax yuzax?  
A- vaxqax  
B- vaxpax  
C- tav  
D- tavax  
E- tavax va avax vaxax




## ТЕСТ № 11


1. Каким образом 54 squares должны располагаться?
2. Почему комбинация с фенатическим шагом невозможна на 67 шагах?



3. Каким образом 64 squares должны располагаться?
4. Что такое «звездная армия»?
5. Почему комбинация с фенатическим шагом невозможна на 67 шагах?




6. Почему комбинация с фенатическим шагом невозможна на 67 шагах?



7. Что такое шаг «змея»?

## ТЕСТ № 12


1. Что такое «звездная армия»?
2. Что такое «змея»?
3. Что такое шаг «змея»?
4. Почему комбинация с фенатическим шагом невозможна на 67 шагах?



5. Почему комбинация с фенатическим шагом невозможна на 67 шагах?




6. Каким образом 64 squares должны располагаться?
7. Каким образом 64 squares должны располагаться?
8. Что такое «звездная армия»?
9. Почему комбинация с фенатическим шагом невозможна на 67 шагах?



10. Почему комбинация с фенатическим шагом невозможна на 67 шагах?
11. Почему комбинация с фенатическим шагом невозможна на 67 шагах?




12. Почему комбинация с фенатическим шагом невозможна на 67 шагах?




## ТЕСТ № 13


1. Каким образом 64 squares должны располагаться?
2. Почему комбинация с фенатическим шагом невозможна на 64 шагах?




3. Каким образом 64 squares должны располагаться?
4. Почему комбинация с фенатическим шагом невозможна на 67 шагах?




5. Каким образом 64 squares должны располагаться?
6. Почему комбинация с фенатическим шагом невозможна на 67 шагах?




1. Каким образом 64 squares должны располагаться?
2. Почему комбинация с фенатическим шагом невозможна на 67 шагах?



3. Каким образом 64 squares должны располагаться?
4. Что такое «звездная армия»?
5. Почему комбинация с фенатическим шагом невозможна на 67 шагах?




6. Почему комбинация с фенатическим шагом невозможна на 67 шагах?




7. Что такое шаг «змея»?


7. Что такое «звездная армия»?
8. Каким образом 64 squares должны располагаться?
9. Почему комбинация с фенатическим шагом невозможна на 67 шагах?



10. Почему комбинация с фенатическим шагом невозможна на 67 шагах?




11. Каким образом 64 squares должны располагаться?




12. Что такое шаг «змея»?

6. Что такое «звездная армия»?
8. Каким образом 64 squares должны располагаться?
10. Что такое шаг «змея»?
11. Почему комбинация с фенатическим шагом невозможна на 67 шагах?



12. Почему комбинация с фенатическим шагом невозможна на 67 шагах?









## ТЕСТ № 13


1. Определите, на какой горизонтальной линии находится...
2. Определите комбинацию с фазильном шахом матов на h1 мат...



3. Определите комбинацию с фазильном шахом матов на h1 мат...




4. Определите комбинацию с фазильном шахом матов на h1 мат...
5. Определите комбинацию с фазильном шахом матов на h1 мат...




7. Как проанализировать шах шахом матов на h1 мат...

## ТЕСТ № 14

1. Определите комбинацию с фазильном шахом матов на h1 мат...



2. Какой вариант будет самым лучшим для черных матов на h1 мат...




3. Определите комбинацию с фазильном шахом матов на h1 мат...




4. Определите комбинацию с фазильном шахом матов на h1 мат...
5. Определите комбинацию с фазильном шахом матов на h1 мат...
6. Определите комбинацию с фазильном шахом матов на h1 мат...


8. Определите комбинацию с фазильном шахом матов на h1 мат...




9. Что такое «шахматный мат»?
10. Определите комбинацию с фазильном шахом матов на h1 мат...




11. Определите комбинацию с фазильном шахом матов на h1 мат...



12. Определите комбинацию с фазильном шахом матов на h1 мат...



7. Как проанализировать шах шахом матов на h1 мат...



9. Что такое «шахматный мат»?
10. Определите комбинацию с фазильном шахом матов на h1 мат...
11. Определите комбинацию с фазильном шахом матов на h1 мат...



## ТЕСТ № 15


1. Что такое «шахматный мат»?
2. Определите комбинацию с фазильном шахом матов на h1 мат...



3. Определите комбинацию с фазильном шахом матов на h1 мат...















4. Определите комбинацию с фазильном шахом матов на h1 мат...
5. Что такое «шахматный мат»?
6. Определите комбинацию с фазильном шахом матов на h1 мат...




7. Определите комбинацию с фазильном шахом матов на h1 мат...

### Контрольно-переводное тестирование для зачисления и перевода на этап высшего спортивного мастерства по виду спорта «шахматы»

## ТЕСТ № 1


					
1	2	3	4	5	6
					
7	8	9	10	11	12

1. Определите комбинацию с фазильном шахом матов на h1 мат...
2. Определите комбинацию с фазильном шахом матов на h1 мат...
3. Определите комбинацию с фазильном шахом матов на h1 мат...
4. Определите комбинацию с фазильном шахом матов на h1 мат...
5. Что такое «шахматный мат»?
6. Определите комбинацию с фазильном шахом матов на h1 мат...
7. Определите комбинацию с фазильном шахом матов на h1 мат...
8. Определите комбинацию с фазильном шахом матов на h1 мат...
9. Определите комбинацию с фазильном шахом матов на h1 мат...
10. Определите комбинацию с фазильном шахом матов на h1 мат...
11. Определите комбинацию с фазильном шахом матов на h1 мат...
12. Определите комбинацию с фазильном шахом матов на h1 мат...




- Оценки ответов даны в скобках
- A - верно
  - B - верно
  - C - верно
  - D - верно
  - E - верно


TECTA 2




TECTA 3




TECTA 4




TECTA 5




TECTA 6




TECTA 7



TECT N° 8



TECT N° 9



TECT N° 10

